







# Technologie 5

NOM : \_\_\_\_\_ Prénom : \_\_\_\_\_ Classe : \_\_\_\_\_ Page1/2

L'EVOLUTION DES OBJETS ET SYSTEMES TECHNIQUES ? Séance 1 : A quoi servent les objets techniques ?

## 📖 Activité 1 : Plusieurs fonctions d'usage !

Certains objets possèdent plusieurs fonctions d'usage. Indique les fonctions d'usage de ces 6 objets.

 \_\_\_\_\_  
 \_\_\_\_\_  
 \_\_\_\_\_  
 \_\_\_\_\_  
 \_\_\_\_\_  
 \_\_\_\_\_  
 \_\_\_\_\_  
 \_\_\_\_\_  
 \_\_\_\_\_  
 \_\_\_\_\_  
 \_\_\_\_\_  
 \_\_\_\_\_

😊 Activité 2 : Classe les objets techniques suivants dans le tableau selon leur fonction d'usage. Train, pile, panneau lumineux, voiture, vélo, batterie, avion, four, montre, moto, horloge, rollers, plaque chauffante, bus, feux tricolore, chronomètre, barbecue, cuisinière, paquebot, sablier, affiche

Fonction d'usage	Stocker de l'énergie	Transporter un groupe de personnes	Chauffer des aliments	Communiquer une information	Se déplacer seul de façon autonome	Mesurer le temps
Objets techniques						

😊 Activité 3 : écris les fonctions d'usages des objets techniques suivants

Objets techniques	Fonctions d'usages
Le crayon-gomme	1. _____
	2. _____
Le radio-réveil	1. _____
	2. _____

# Technologie 5

NOM : \_\_\_\_\_ | Prénom : \_\_\_\_\_ | Classe : \_\_\_\_\_ | Page2/2

L'EVOLUTION DES OBJETS ET SYSTEMES TECHNIQUES ?

Séance 1 :  
A quoi servent les objets techniques ?

## ☺ Activité 4 : Fonction d'usage et fonction principale



Quelles sont les fonctions d'usages de cet objet ?

.....

Quelle est sa fonction principale ?

.....

Trouve un autre exemple d'objet technique ayant beaucoup de fonctions .....

Indique la fonction principale de cet objet.....